

Ime in priimek: \_\_\_\_\_

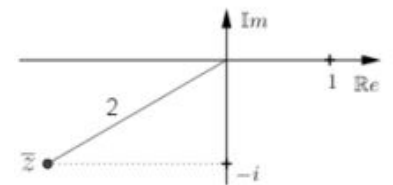
Vpisna številka: \_\_\_\_\_

### Izpit iz Matematike - teoretični del, RI VS FRI UL

Naloga rešite na ločen papir. Obkrožite pravilen rezultat. Oddajte le list z obkroženimi rešitvami. Naloga ima lahko tudi več pravih rešitev. Vsaka pravilno obkrožena rešitev prinaša 10 točk. Vsaka nepravilno obkrožena rešitev prinaša -2 točki.

1. Na sliki je prikazana konjugirana vrednost kompleksnega števila  $z$ . Torej  $\bar{z}$ . Koliko je  $z$ ?

- A)  $2 + i$                       B)  $\sqrt{3} + i$                       C)  $-\sqrt{3} - i$   
 D)  $2 - i$                       E)  $\sqrt{3} - i$                       F)  $-\sqrt{3} + i$



2. Kako se  $z$  iz zgornje naloge zapiše v polarnem zapisu  $r \cdot e^{i\varphi} = r \cdot (\cos \varphi + i \sin \varphi)$ ?

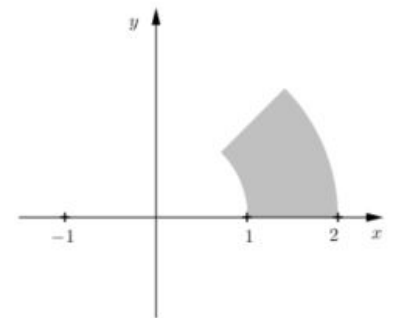
- A)  $2 \cdot e^{i\frac{\pi}{3}}$                       B)  $2 \cdot e^{i\frac{\pi}{6}}$                       C)  $2 \cdot e^{i\frac{5\pi}{6}}$                       D)  $2 \cdot e^{i\frac{2\pi}{3}}$                       E)  $2 \cdot e^{-i\frac{\pi}{6}}$                       F)  $2 \cdot e^{i\frac{7\pi}{6}}$

3. Kompleksno število je mogoče zapisati v kartezičnih in v polar-  
nih koordinatah. Če zapišemo

$$z = x + iy = r \cdot e^{i\varphi} = r \cdot (\cos \varphi + i \sin \varphi),$$

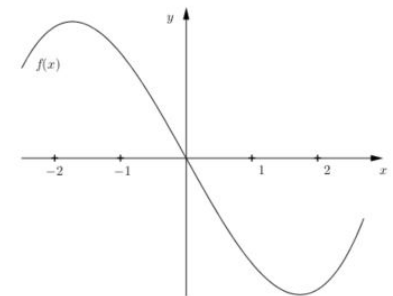
kateri pogoj določa skicirano območje:

- A)  $2 \leq r \leq 1$  in  $0 \leq \varphi \leq \frac{\pi}{4}$                       B)  $0 \leq \varphi \leq \frac{\pi}{4}$  in  $1 \leq r \leq 2$   
 C)  $0 \leq \varphi \leq \frac{\pi}{6}$  in  $1 \leq r \leq 2$                       D)  $2 \leq r \leq 1$  in  $0 \leq \varphi \leq \frac{\pi}{6}$   
 E)  $r = \sqrt{x^2 + y^2}$  in  $\varphi = \arctan \frac{y}{x}$                       F)  $x = r \cdot \cos \varphi$  in  $y = r \cdot \sin \varphi$



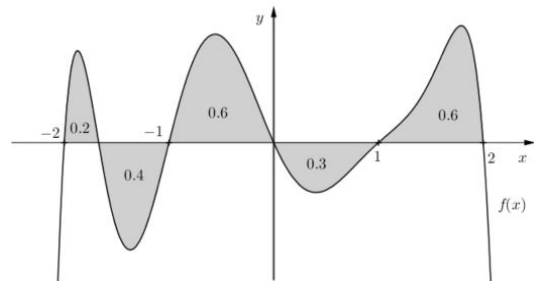
4. Na sliki je graf funkcije  $f(x)$ . Katero lastnost ima funkcija  $f(x)$ ?

- A)  $f(1) \geq 0$                       B)  $f'(1) \geq 0$                       C)  $f''(1) \geq 0$   
 D)  $f(-1) \leq 0$                       E)  $f'(-1) \geq 0$                       F)  $f''(-1) \geq 0$   
 G)  $f(-1) \geq 0$                       H)  $f'(0) = 0$                       I)  $f''(1) \leq 0$   
 J)  $f(-1) = 0$                       K)  $f'(-1) = 0$                       L)  $f''(-1) = 0$   
 M)  $f(1) = 0$                       N)  $f'(1) = 0$                       O)  $f''(1) = 0$   
 P) je soda                      R)  $f'(-1) \leq 0$                       S) je padajoča



5. Na sliki je skica grafa funkcije  $f(x)$  in vpisane so ploščine posameznih osenčenih delov. Kateri določeni integral je pravilno izračunan?

- A)  $\int_{-2}^0 f(x)dx = 1.2$       B)  $\int_{-1}^1 f(x)dx = 0.9$   
 C)  $\int_0^1 f(x)dx = 0.3$       D)  $\int_{-1}^2 f(x)dx = 0.9$   
 E)  $\int_0^{-2} f(x)dx = -1.2$       F)  $\int_{-1}^1 f(x)dx = -0.9$



6. Trije (neničelni) vektorji  $\vec{a}$ ,  $\vec{b}$  in  $\vec{c}$  so komplanarni (ležijo v isti ravnini). Za vektorja  $\vec{d}$  in  $\vec{e}$  pa velja  $\vec{d} = \vec{a} + \vec{b}$  in  $\vec{e} = \vec{a} \times \vec{b}$ . Katera lastnost velja?

- A)  $\vec{c} \cdot \vec{d} = 0$       B)  $\vec{c} \times \vec{d} = \vec{0}$       C)  $|d| \geq |c|$   
 D)  $|c| \geq |d|$       E)  $\vec{d} \cdot \vec{e} = 0$       F)  $\vec{d} \times \vec{e} = \vec{0}$

7. Rešiti moramo sistem treh linearnih enačb s tremi neznankami  $x$ ,  $y$  in  $z$ . Tak sistem enačb lahko zapišemo v matrični obliki

$$A \cdot \begin{bmatrix} x \\ y \\ z \end{bmatrix} = \begin{bmatrix} a \\ b \\ c \end{bmatrix},$$

kjer je  $A$  matrika velikosti  $3 \times 3$ . Trojki  $(x_0, y_0, z_0)$ , ki ustreza vsem trem enačbam, rečemo rešitev sistema. Katera izmed trditev je gotovo pravilna?

- A)  $(0, 0, 0)$  je vedno rešitev.      B)  $\det(A) \neq 0 \implies$  obstaja rešitev  
 C)  $\det(A) = 0 \implies$  obstaja rešitev.      D)  $\det(A) \neq 0 \implies (0, 0, 0)$  je rešitev  
 E)  $\det(A) = 0 \implies$  obstaja več rešitev.      F) Obstajajo vsaj tri rešitve.

8. Podane so matrike

$$A = \begin{bmatrix} 1 & 0 & 0 \\ 0 & 1 & -1 \\ 0 & -1 & 1 \end{bmatrix} \quad B = \begin{bmatrix} 1 & 0 \\ 0 & 1 \\ 0 & 1 \end{bmatrix} \quad C = \begin{bmatrix} 1 & 0 & 0 \\ 0 & 1 & 1 \end{bmatrix} \quad D = \begin{bmatrix} 2 & 0 \\ 0 & 1 \end{bmatrix}$$

Katere determinante so pravilno izračunane?

- A)  $\det(B \cdot C + A) = 8$       B)  $\det(D + C \cdot B) = 8$       C)  $\det(A \cdot B + B) = 2$   
 D)  $\det(D \cdot C + C) = 6$       E)  $\det(C \cdot B + D) = 3$       F)  $\det(A + B \cdot C) = 2$